

Candidate Name: _____

Centre Number		Candidate Number												



Time: 1 hour

Instructions to candidates

Write your name, centre number and candidate number in the spaces at the top of this page.

Answer **all** questions.

Write your answers in the spaces provided in the question paper.

Information for candidates

The number of marks is given in brackets [] at the end of each question.

Cell phones are not allowed in the examination room.

FOR EXAMINER'S USE	
Section 1	
1	
2	
3	
Section 2	
1	
2	
Total	

Section 1

Exercice 1 Question 1 à 6

Répondez aux questions en cochant la bonne case.


1 Vous lisez la notice suivante:

INTERDIT DE STATIONNER ICI!


Quel signe suivez-vous?




A



B



C



D

[1]

2 Vous voyagez à l'étranger. Dans quel bureau devez – vous entrer pour montrer votre passeport?

A

Bureau d'échange

B

Bureau de ventes

C

Bureau de tabac

D

Bureau d'immigration

[1]

3 Banda veut acheter des médicaments. Dans quel magasin entre-t-il?

A

Horlogerie

B

Pharmacie

C

Bijouterie

D

Hôpital

[1]

4 Vous écoutez le programme suivant à la radio

12H30	=	Actualité midi
14H00	=	Bande dessinée
15H00	=	Sports
17H00	=	Documentaire
18H00	=	Dieu avec nous
19H00	=	Journal
20H00	=	Non au SIDA

Vous êtes chrétien et vous voulez écouter la parole de Dieu. Vous la suivez à quelle heure?

- A** à 18h 00
- B** à 12h 30
- C** à 19h 00
- D** à 20h 00

[1]

5 Votre costume est sale et vous voulez qu'il soit lavé. Dans quel magasin entrez-vous?

- A** Pâtisserie
- B** Confiserie
- C** Blanchisserie
- D** Tabac-journaux

[1]

6 Vous voulez acheter un livre de lecture. Où allez-vous?

- A** La mairie
- B** La bibliothèque
- C** La gendarmerie
- D** La Librairie

[1]

[Total: 6]

[Turn over

Exercice 2 Question 7 à 12

Lisez ce document et répondez en cochant la case vrai ou faux.

Horaire du Lycée KWESU
4^{ème} ANNEE SECONDAIRE

Heures	7 :20 8 :00	8 :00 8 :40	8 :40 9 :20	9 :20 10 :00	10 :00 10 :20	10 :20 11 :00	11 :00 11 :40
Périodes	1	2	3	4	R E C R E A T I O N	5	6
Jours							
Lundi	MATHS		FRANÇAIS			ANGLAIS	CHIMIE
Mardi	ANGLAIS		INFORMATIQUE			MATHS	FRANÇAIS
Mercredi	MATHS	PHYSIQUE	BIOLOGIE			FRANÇAIS	ANGLAIS
Jeudi	GEOGRAPHIE		MATHS	PHYSIQUE		ANGLAIS	CHIMIE
Vendredi	INFORMATIQUE		MATHS	BIOLOGIE		SPORTS	

Maintenant répondez aux questions vrai ou faux en cochant la bonne case.

Questions

	Vrai	Faux
7 On étudie les Maths cinq fois par semaine.	<input type="checkbox"/>	<input type="checkbox"/>
8 On n'étudie pas l'histoire.	<input type="checkbox"/>	<input type="checkbox"/>
9 Le vendredi à la troisième période on étudie l'anglais.	<input type="checkbox"/>	<input type="checkbox"/>
10 Lundi de 7h20 à 8h 40 on étudie les Maths.	<input type="checkbox"/>	<input type="checkbox"/>
11 La récréation dure 30 minutes.	<input type="checkbox"/>	<input type="checkbox"/>
12 L horaire est pour la 6 ^{ème} Année secondaire.	<input type="checkbox"/>	<input type="checkbox"/>

[Total: 6]

Exercice 3: Questions 13 à 21

Lisez les petites publicités et répondez aux questions en mettant la lettre correspondante dans la case.

<p>A JOANNA – 38 ans Cherche un camion de dix tonnes pour transporter des marchandises lourdes.</p>		<p>B FELIX – 25 ans Cherche vingt ordinateurs pour pièces de rechange.</p>
<p>C BEATRICE – 20 ans Cherche une petite voiture pour aller à l’université chaque jour. Elle étudie l’économie.</p>		<p>D CHANTAL – 23 ans Elle travaille à l’hôpital UTH comme gynécologue. Elle est médecin.</p>
<p>E EMELIE – 42 ans Elle donne cours au Lycée Shibukeni.</p>		<p>F PATRICE – 70 ans Retraité de la clinique universitaire. Il habite à sa ferme.</p>

Qui a 20 ans?

13 Qui est professeur?

14 Qui est homme d'affaires?

15 Qui est pensionné?

16 Qui est étudiante?

17 Qui est électronicien?

18 Qui est docteur?

[Total: 6]

Maintenant, lisez le texte suivant et répondez aux questions 19 à 21 en français.

Aventures de l'enfance

Un jour vers 09h00 du matin mes amis et moi nous sommes rassemblés devant ma maison. En tant que chef de groupe, j'ai donné les ordres et le plan du jour. Il s'agissait d'aller nager à la rivière Luombe; manger des gros raisins au bord de la rivière et enfin se retrouver auprès des chutes d'eau qui s'appellent Chishimba.

- 19 L'auteur raconte que vers 09h00 ils se sont rassemblés..... [2]
.....
- 20 Les ordres et le plan du jour étaient: [2]
.....
- 21 Le titre de cette histoire c'est [2]
.....
- [Total: 6]**

SECTION 2

Exercice 1. Question 22 à 27

Lisez le document suivant et répondez aux questions en cochant la bonne case.

ZAMBIA DAILY MAIL 27 mai; 2014
COLLINS MBESUMA alias 'Ntofo Ntofo' ou soit
'King David', il est grand, muscle et très
rapide devant le but. Il est également gauche
Age = 30 ans
Nationalité = Zambien
Tribu = Kaonde
Etudes = Certificat d'études secondaires
Profession = Mineur à Luanshya
Clubs = - Club Roan United – Zambie
- Club Kaizer Chiefs – Afrique du sud
- Club Portsmouth – Angleterre
- Club Orlando pirates – Afrique du Sud
- Equipe Nationale - Zambie

- 22 Donnez un nom 'alias' de Mbesuma.

- A** Collins
- B** Kaonde
- C** Zambie
- D** King David

[1]

23 Mbesuma a quel âge?

A 30 ans

B 39 ans

C 40 ans

D 50 ans

[1]

24 'Ntofo Ntofo' était avant d'être joueur.

A Docteur

B joueur

C mineur

D Zambien

[1]

25 Mbesuma joue souvent en utilisant quel pied?

A Kaonde

B Droit

C Sud

D Gauche

[1]

26 En quelle équipe Mbesuma a-t-il joué en Europe?

A Kaizer Chiefs

B Roan United

C Portsmouth

D Orlando Pirates

27 Dans combien de pays est-ce que Mbesuma a déjà joué?

A 4 pays

B 3 pays

C 1 pays

D 2 pays

[1]

[Total: 6]

Exercice 2: Questions 28 à 37

Lisez les ministères suivants et associez- chaque ministère aux mots suivants:

**SPORT ET JEUNESSE – SANTE – COMMERCE – ECONOMIE ET FINANCE –
EDUCATION – DEFENSE – MINES ET ENERGIE – AGRICULTURE – TOURISME –
TRAVAIL ET SOCIAL**

Mettez les (s) mots (s) dans la case à cote.

- | | | | |
|----|--|----------------------|-----|
| 28 | il s'occupe de la sante' | <input type="text"/> | [1] |
| 29 | il garde la sécurité du pays et du peuple. | <input type="text"/> | [1] |
| 30 | il dirige les sports et guide les jeunes. | <input type="text"/> | [1] |
| 31 | Il assure la sécurité sociale de tous les travailleurs. | <input type="text"/> | [1] |
| 32 | Il développe le secteur agricole. | <input type="text"/> | [1] |
| 33 | Il contrôle les activités minières et énergiques. | <input type="text"/> | [1] |
| 34 | Il contrôle les activités commerciales du pays. | <input type="text"/> | [1] |
| 35 | Il surveille et régularise l'économie du pays vis-à-vis l'économie mondiale. | <input type="text"/> | [1] |
| 36 | Il est chargé de l'éducation. | <input type="text"/> | [1] |
| 37 | Il sauvegarde la flore et la faune d'un pays. | <input type="text"/> | [1] |

[Total: 10]

FIN